

# 2022 ශිෂ්‍යත්වය පරීසරය කෙරී ප්‍රශ්න 1000

කැට්ටුගොල්ලේ  
දැඩියාණ කලාවයි

පිලිතුරු 3 in 1 youtube  
නාලිකාව ඔස්සේ  
නැරඹිය හැකි ය.

9 ඒකකය

## ගමනාගමනය



සැකසුම :-

## හැසිනා හෙට්ට්ෆාච්ච්

Dip. In Sci. N.I.E./O.U.S.L.

Online Class details –WhatsApp 071 – 9020298 Facebook 3in1 Youtube

<b>කාර්ය පත්‍රිකාව</b>	<b>5 ශ්‍රේණිය</b>	<b>9. ගමනාගමනය</b>
සැකසුම :- ඒ.එච්. රාධා ප්‍රබෝධනී අ/ කල්පේ රළපනාව විද්‍යාලය		ප්‍රාථමික අංශය කැබිනිගොල්ලෑව අධ්‍යාපන කලාපය

• නිවැරදි පිළිතුර තෝරා යටින් ඉරක් අදින්න.

- සිතියම්වල මහා මාර්ග දැක්වීමට යොදා ඇති සම්මත වර්ණය කුමක් ද?
    1. කළු,
    2. නිල්
    3. කොළ
    4. රතු
  - නිල්පාට පුවරුවක සුදුපාට ත්‍රිකෝණයක් තුළ පෙන්වා ඇති පහත මාර්ග සංඥාවෙන් ප්‍රකාශ වන්නේ,
    1. ඉක්මනින් පාර පනින්න.
    2. පදිකයන් මාරුවන ස්ථානය ඉදිරියෙන්
    3. පාර පැනීම තහනම්
    4. පදිකයන් මාරුවන ස්ථානය
- 
- බස්නැවතුමක නතර කළ බස්රියකින් බැසගත් මගියෙකු බසය ඉදිරියෙන් පාර හරහා පැනීම අනතුරුදායක වන්නේ
    1. දකුණු පසින් එන වාහන පැහැදිලිව නොපෙනෙන නිසා ය.
    2. වම් පසින් එන වාහන පැහැදිලිව නොපෙනෙන නිසා ය.
    3. මාර්ගයේ දෙපැත්තම පැහැදිලිව නොපෙනෙන නිසා ය.
    4. බස්රියේ රියදුරුට මගියා නොපෙනෙන නිසා ය.
  - කහපාට පසුකලයක දැක්වෙන මෙම මාර්ග සංඥාවෙන් ප්‍රකාශ වන්නේ කුමක් ද?
    1. ළමයින් මාරුවන ස්ථානය ඉදිරියෙනි.
    2. පදිකයන් මාරුවන ස්ථානය ඉදිරියෙනි.
    3. ඉක්මනින්ම පාර පනින්න
    4. පදිකයන් මාරුවන ස්ථානය
- 
- බයිසිකලයක පිටුපස මඩ ආවරණයේ පහළ කොටසේ රතු පැහැති පරාවර්තනයක් (ටේල් ලයිට් එකක්) තිබීම අත්‍යවශ්‍යය වන්නේ,
    1. රාත්‍රි කාලයේ පයින් ගමන් කරන අයගේ ආරක්ෂාව සඳහා ය
    2. රාත්‍රි කාලයේ පාර හරහා පයින් යන අයගේ ආරක්ෂාව සඳහා ය
    3. රාත්‍රි කාලයේ දී පසු කරනු ලබන පයින් ඇවිදින්නන්ට පෙනීම සඳහා ය.
    4. රාත්‍රි කාලයේ දී පිටුපසින් එන වාහනවල පෙනීම සඳහා ය.
  - කහපාට පසුබිම දැක්වෙන මෙම මාර්ග සංඥාවෙන් ප්‍රකාශ වන්නේ කුමක් ද?
    1. ඉදිරියෙන් නවතිනු
    2. ගේට්ටුව සහිත දුම්රිය හරස් මාර්ගය ඉදිරියෙනි
    3. ආරක්ෂා කර නොමැති දුම්රිය හරස් මාර්ගය ඉදිරියෙනි
    4. මාර්ගය ඉදිරියෙන් වසා ඇත.
-

7. රූප සටහනට දැක්වෙන පොලිස් නිලධාරියා ලබාදෙන සංඥාවෙන් ප්‍රකාශ වන්නේ කුමක් ද?

1. පිටුපසින් එන වාහන පමණක් නතර වෙනු.
2. ඉදිරියෙන් සහ පිටුපසින් එන සියලුම වාහන නතර වෙනු.
3. ඉදිරියෙන් එන වාහන පමණක් නතර වෙනු.
4. ඉදිරියෙන් සහ පිටුපසින් එන සියලු ම වාහන නොතවත් වනුය.



8. ගමනාගමනය සඳහා වැඩිවශයෙන් පාපැදි භාවිතයට හා සම්බන්ධ වැරදි ප්‍රකාශය වන්නේ,

1. පරිසර දූෂණය අඩු කර ගත හැකිය.
2. ගමනාගමන වියදම් අඩු කර ගත හැකිය.
3. අනතුරු අඩු කර ගත හැකි ය.
4. ලෙඩ රෝග අඩු කර ගත හැකි ය.

9. මෙම සංකේතයෙන් ප්‍රකාශ වන්නේ,

1. ගැබ්ණී මව්වරුන් සඳහා බව
2. අබාධිත අය සඳහා බව
3. වයස්ගත වූවන් සඳහා බව
4. ළමයින් සඳහා බව




10. රාජ්‍ය ආයතනවලින් සැපයෙන සේවා හා සම්බන්ධ තොරතුරු දැනගැනීම සඳහා ඇමතිය යුතු දුරකථන අංකය

1. 118 වේ
2. 119 වේ.
3. 1231 වේ
4. 1919 වේ.

11. ලියාපදිංචි තැපෑලෙන් මෙරට තුළ ලිපියක් යැවීම සඳහා කොපමණ වටිනාකමින් යුත් මුද්දර අඩුම වශයෙන් අවශ්‍ය වේ ද?

1. රු. 20.00
2. රු. 25.00
3. රු. 30.00
4. රු. 35.00

12. මෙම රූපික ප්‍රකාශයෙන් අදහස් වන්නේ,



1. " වටරවුමක් " යන්නයි
2. " ප්‍රතිචක්‍රීකරණය කළ යුතු ය" යන්නයි.
3. " දකුණට හැරවිය යුතු ය" යන්නයි.
4. " පරෙස්සමෙන් පරිහරණය කරන්න" යන්නයි.

13. කහපාට පසුබිමෙන් කළුපාටින් ඇති මෙම මාර්ග සංඥාවෙන් කියවෙන්නේ,

1. පදිකයන් මාරුවන ස්ථානය ඉදිරියෙහි යන්නයි
2. අනතුරු සහිත වංගුව ඉදිරියෙහි යන්නයි
3. වැඩ කරන මිනිසුන් ඉදිරියෙහි යන්නයි
4. ළමයින් මාරුවන ස්ථානය ඉදිරියෙහි යන්නයි.



14. කොළඹ සිට බදුල්ල දක්වා වැටි ඇති දුම්රිය මාර්ගයේ හමුවන දුම්රිය නැවතුපොළකි,

1. වටවල
2. හබරණ
3. සීදුව
4. වවුනියාව

15. ඉන්ධන අවශ්‍ය නොවන ප්‍රවාහන ක්‍රමයක් නොවන්නේ,

1. රුවල් ඔරුව
2. කෝච්චිය
3. නැව
4. ගුවන්යානය

16. කහපාට පසුබිමෙහි කළු පාටින් ඇති මෙම රූපයෙන් දැක්වෙන මාර්ග සංඥාව කුමක් ද?

1. ගේට්ටුව සහිත දුම්රිය මාර්ගය
2. ගේට්ටුව රහිත දුම්රිය මාර්ගය
3. ආරක්‍ෂාකර ඇති දුම්රිය හරස් මාර්ගය ඉදිරියෙනි
4. ආරක්‍ෂා කර නොමැති දුම්රිය හරස් මාර්ගය ඉදිරියෙනි




17. ශ්‍රී ලංකාවේ දකුණු දුම්රිය මාර්ගයේ අවසාන නගරය වනුයේ,

1. මාතර
2. ගාල්ල
3. බෙලිඅත්ත
4. කතරගම

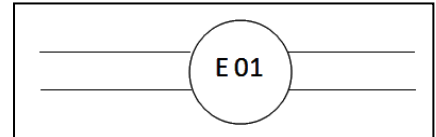
18. කහපාට පසුබිමෙහි කළු පාටින් ඇති මෙම රූපයේ දැක්වෙන සංඥාව කුමක් ද?

1. රෝහල ඉදිරියෙනි
2. පටු පාලම ඉදිරියෙනි
3. එකිනෙක හරහා ගමන් කරන මාර්ගය ඉදිරියෙනි
4. ඉදිරියේ දී මාර්ගය පටුය



19. මාර්ග සිතියම්වල නිල් පාටින් පෙන්වා ඇති පහත රූපයෙන් පෙන්වන්නේ

1. අධිවේගී මාර්ග
2. මහා මාර්ග
3. දුම්රිය වර්ග
4. ඇල මාර්ග




20. අධිවේගී මාර්ගවල තොරතුරු පුවරුවල වර්ණය වන්නේ,

1. නිල්
2. කොළ
3. රතු
4. සුදු

21. කහපාට පසුබිමෙහි කළුපාටින් ඇති මෙම රූපයේ දැක්වෙන සංඥාව කුමක් ද?

1. මාර්ගය වසා ඇත.
2. ඉදිරියෙන් නවතිනු
3. වටරවුම් ඉදිරියෙනි
4. ඉදිරියෙන් මාර්ගය ඉඩදෙනු



22. මහමග සිටුවා ඇති තැපැල් පෙට්ටි කණුවල ඇති පාට වන්නේ,

1. නිල්
2. කොළ
3. රතු
4. කහ

23. සිතියමක දුම්රිය මාර්ග දක්වන වර්ණය වනුයේ,

1. සුදු
2. කළු
3. තැඹිලි
4. නිල්

24. මෙම මාර්ග සංඥාවෙන් කියවෙන්නේ,



1. ඉදිරියට යන්න
2. ඉදිරියෙන් දකුණට හරවන්න.
3. ඉදිරියෙන් මාර්ගය වසා ඇත.
4. ඇතුළුවීම තහනම්

25. “දෝලාව” භාවිත කරන්නේ,

1. ජලයේ පාවීමට
2. ගමන් යෑමට
3. පණිවිඩ යැවීමට
4. කාලය මැනීමට

26. පොදු ප්‍රවාහන ක්‍රමවල ආසන වෙන්කර නොමැත්තේ,  
 1. ගැබිනිමව්වරුන්ට  
 2. අබාධිතයන්ට  
 3. පුජ්‍ය පක්‍ෂයට  
 4. හමුදා නිලධාරීන්ට
27. තැපැල් පෙට්ටියක සටහන් කර ඇති දෙයකි,  
 1. විවෘත කරන්නාගේ නම  
 2. ලිපියකට තිබිය හැකි අවම බර  
 3. ලිපි ගන්නා වෙලාව  
 4. ලිපි ගන්නා දිනය
28. වැවක් පිහිටන ස්ථානයක් සලකුණු කිරීමට ශ්‍රී ලංකා සිතියම්වල යොදා ගන්නේ,  
 1. නිල් පාට දිග රේඛාවකි.  
 2. නිල් පාට රේඛාවක් මත යෙදූ තිත්කි.  
 3. නිල්පාටින් පාට කළ කුඩා ප්‍රදේශයකි.  
 4. එක් ස්ථානයකට සම්බන්ධ කළ නිල්පාට රේඛා කිහිපයකි.
29. ශ්‍රී ලංකාව තුළ පොදු වාහන මගින් සිදු කෙරෙන ගමනාගමන සේවය මහජනතාවට වඩාත් හිතකර සේවයක් වීම සඳහා පහත කුමන යෝජනාව ක්‍රියාත්මක කිරීම වඩාත් සුදුසු වේ ද?  
 1. නියමිත කාල සටහනකට අනුව සියලු ම පොදු වාහන ක්‍රියාත්මක කිරීම  
 2. පොදු වාහන තුළ රූපවාහිනි හා ගුවන්විදුලි යන්ත්‍ර ක්‍රියාත්මක කිරීම  
 3. දහවල් කාලය තුළ පොදු වාහන ධාවනය සීමා කිරීම  
 4. ධාවනය කිරීමේ දී නැවතුම් ස්ථාන කිහිපයක පමණක් පොදු වාහන නතර කිරීම
30. “ඉන්නේ දුම්බරයි මහ කළු ගලක් යට කන්නේ කරවලයි රට හාලේ බතට” යන කවිය  
 1. ගොයම් කවියකි, 2. කරන්න කවියකි 3. පාරු කවියකි 4. පතල් කවියකි.
31. අපේ රටේ පොදු ප්‍රවාහන බස් රථයක පුජ්‍ය පක්‍ෂයට හැරුණු විට මගී ආසන වෙන්කර ඇති අනෙක් පුද්ගල දෙක මොනවා ද?  
 1. ළදරුවන්, රෝගීන්  
 2. රෝගීන්, පාසල් දරුවන්  
 3. අබාධිතයින්, ගැබිනි මව්වරුන්  
 4. වයස්ගත වැඩිහිටියන්, අබාධිතයින්
32. මාර්ග වර්ණ සංඥා පුවරුවක ඉහළ සිට පහළට වර්ණ සංඥා පිහිටන නිවැරදි අනුපිළිවෙළ තෝරන්න.  
 1. රතු, කහ, කොළ  
 2. කොළ, කහ, රතු  
 3. කහ, රතු, කොළ  
 4. කහ, කොළ, රතු,
33. ගමනාගමනය සඳහා අවම වියදමක් දැරීමට සිදුවන වාහනය වන්නේ,  
 1. යතුරු පැදිය 2. තුන්රෝද රිය 3. පා පැදිය 4. කාරය
34. වැඩිම වේගයකින් ගමන් කළ හැකි වාහනය වන්නේ,  
 1. කාරය 2. නැව 3. දුම්රිය 4. ගුවන්යානය
35. මහා මාර්ගයේ ගමන් කරන පොදු වාහනයක් වන්නේ,  
 1. කාරය 2. බසය 3. ත්‍රිවිලය 4. ලොරිය
36. මහාමාර්ගයේ ගමන් කරන මගීන් පයින් ගමන් කරන විටක එක පෙළට ගමන් කළ යුතු වැඩිම මගීන් සංඛ්‍යාව වන්නේ,  
 1. දෙදෙනෙකි 2. තිදෙනෙකි 3. හතර දෙනෙකි 4. පස් දෙනෙකි

37. මෙම රූපික ප්‍රකාශනයෙන් කියවෙන්නේ කුමක් ද?



1. ශ්‍රී ලංකා ප්‍රමිති කාර්යාංශය
2. මාර්ග සංවර්ධන අධිකාරිය
3. ලංකා විදුලිබල මණ්ඩලය
4. ඛනිජ තෙල් නීතිගත සංස්ථාව

38. මහාමාර්ගයේ ඇති විදුලි සංඥා පුවරුවක රතුපාට එළිය දැක්වීමෙන් සංඥා කෙරෙන්නේ,

1. රථය ධාවනය කරන්න යන්නයි.
2. රථය නවත්වන්න යන්නයි.
3. රථය ධාවනයට සුදානම්වන්න යන්නයි
4. රථය දකුණට හරවන්න යන්නයි.

39. ශ්‍රී ලංකාවේ දෙවන ජාත්‍යන්තර ගුවන් තොටුපල පිහිටා ඇත්තේ,

1. කටුනායක
2. මත්තලය
3. රත්මලානේ ය.
4. වීරවිල ය.

40. ශ්‍රී ලංකා සිතියමක අභය භූමි සලකුණු කර ඇත්තේ කිනම් වර්ණයකින් ද?

1. කළු
2. කොළ
3. රතු
4. නිල්



41. පළල් මාර්ගය පෙන්නුම් කිරීමට භාවිත කෙරෙන රූපික ප්‍රකාශනය කුමක් ද?

1.

2.

3.

4.



42. පොදු ප්‍රවාහන සේවාවක්වන බස්රථවල ආසන වෙන්කර ඇත්තේ,

1. පුරු පක්ෂය, ගැබිණි මාතාවන්, වැඩිහිටි අය සඳහා ය.
2. පුරු පක්ෂය, ගැබිණි මාතාවන්, ආබාධිත අය සඳහා ය.
3. ගැබිණි මාතාවන්, පුරු පක්ෂය, කුඩා දරුවන් වඩාගෙන එන අය සඳහා ය.

අප උපකාරක පංතියේදී ලබා දෙන මෙම නිබන්ධනය ද ඇහැදු මෙවැනි නිබන්ධන රාශියක් pdf ලෙස 3in1 Group එකෙන් ලබා ගත හැක.

සුවඟසක් ශිෂ්‍යත්ව විභාගයට පෙනී සිටින දරුවන් වෙනුවෙන් වාණිජ අරමුණකින් නොරච සතුවිත් ලබා දෙන නිබන්ධන නම වෙනස් කර අලෙවි කිරීමට කටයුතු නොකරන්න. පාසල් හෝ උපකාරක පංති සඳහා යොදා ගත හැකිය. ඔබ විසින් ලබා දෙන Like එක Comment එක අපට ශක්තියකි.

අප **3in1 Youtube** නාලිකාවෙන් ප්‍රශ්න පත්‍ර සඳහා පිළිතුරු සාකච්ඡා කිරීම නැරඹිය හැකිය.

**සිංහල!**

**yis; fyÜáwáñ**  
(Dip. In Sci. N.I.E./O .U.S.L.)



3 in 1 **youtube**kd,sldj Tiafia kerôh yelsh

Online Class details – **WhatsApp** 071 – 9020298 **Facebook** 3in1 **Youtube** 3in1

එක් තණ්ඩායමකට සිසුන් 10ක් පමණක් බඳවා ගනේ